


- Un aquarium contient des poissons arc-en-ciel et des poissons rouges. Le rapport des poissons arc-en-ciel aux poissons rouges dans l'aquarium est de 1 : 4. Quel est le pourcentage de poissons arc-en-ciel ?

1 poisson sur 5 est un poisson arc-en-ciel.

$$\frac{1}{5} = 0,20$$

De plus,  $0,20 = 20\%$

20 % des poissons sont des poissons arc-en-ciel.



### À ton tour

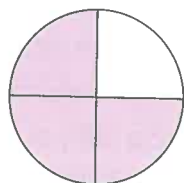
- Dessine du matériel de base dix ou colorie une grille de 100 pour représenter chaque fraction. Écris chaque fraction sous la forme d'un pourcentage et d'un nombre décimal.
 

a) $\frac{6}{100}$	b) $\frac{81}{100}$	c) $\frac{17}{50}$	d) $\frac{3}{10}$
e) $\frac{1}{50}$	f) $\frac{1}{5}$	g) $\frac{7}{20}$	h) $\frac{3}{4}$
- Dessine du matériel de base dix ou colorie une grille de 100 pour représenter chaque nombre décimal. Écris chaque nombre décimal sous la forme d'une fraction et d'un pourcentage.
 

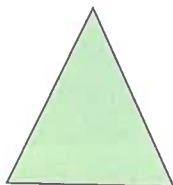
a) 0,97	b) 0,03	c) 0,16	d) 0,5
e) 0,65	f) 0,24	g) 0,09	h) 0,7
- Dessine du matériel de base dix ou colorie une grille de 100 pour représenter chaque pourcentage. Écris chaque pourcentage sous la forme d'une fraction et d'un nombre décimal.
 

a) 14 %	b) 99 %	c) 25 %	d) 40 %
e) 35 %	f) 6 %	g) 90 %	h) 15 %
- Quel pourcentage de chaque figure est coloré ?  
Montre comment tu as trouvé tes réponses.

a)



b)



c)

