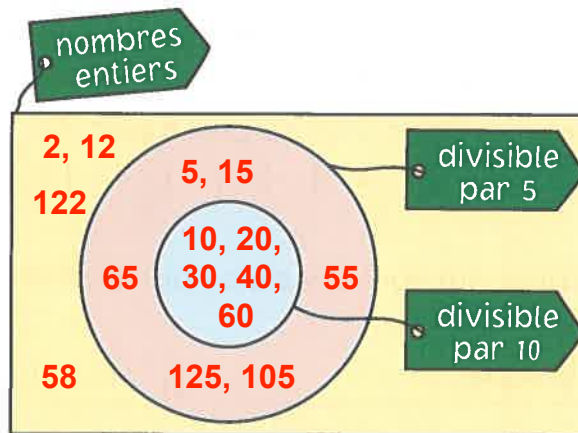
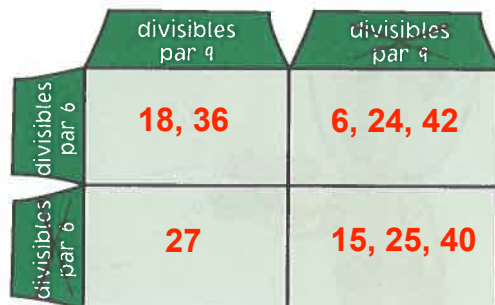


Complète les diagrammes avec les nombres donnés.

3 – 6 – 9 – 13 – 15 – 18 – 21 –
24 – 25 – 27

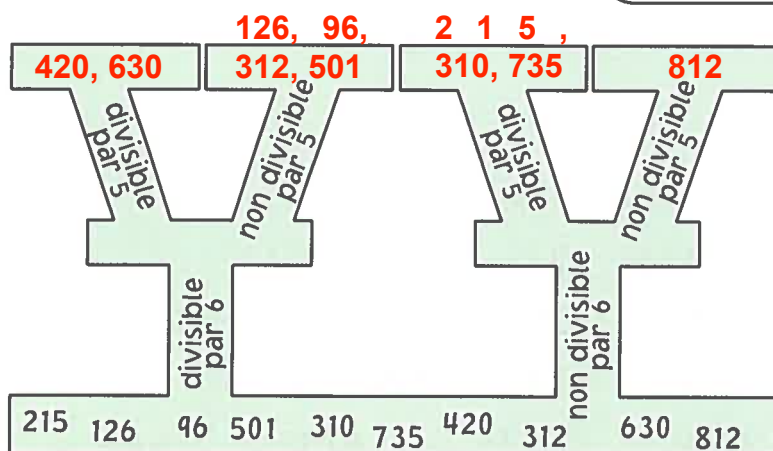


6 – 15 – 18 – 24 – 25 – 27 –
36 – 40 – 42 – 45



2 – 5 – 10 – 12
15 – 20 – 30
40 – 55 – 58 – 60
65 – 105 – 122 – 125

Tu t'améliores de
plus en plus !



- 4 Trouve les différents facteurs des nombres en écrivant d'abord les multiplications qui donnent ce produit. Mets les facteurs dans l'ordre croissant.

18: 1×18 2×9 3×6

Les facteurs de 18 sont: $1, 2, 3, 6, 9, 18$

21: 1×21 3×7

Les facteurs de 21 sont: $1, 3, 7, 21$

25: 1×25 5×5

Les facteurs de 25 sont: $1, 5, 25$

27: 1×27 3×9

Les facteurs de 27 sont: $1, 3, 9, 27$

30: 1×30 2×15 3×10

5×6

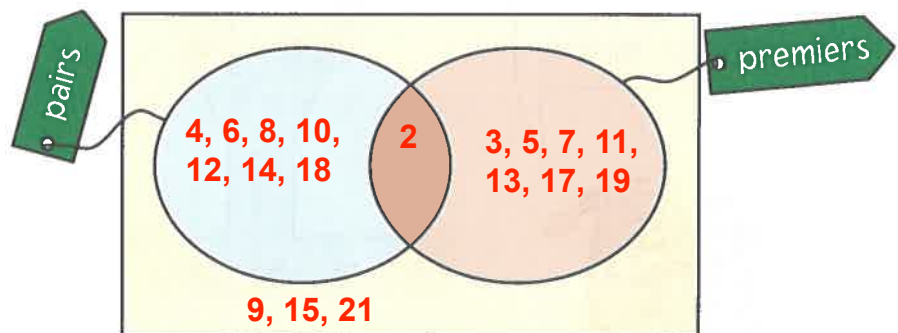
Les facteurs de 30 sont: $1, 2, 3, 5, 6, 15, 30$

50: 1×50 2×25

Les facteurs de 50 sont: $1, 2, 25, 50$

- 5 Place les nombres de gauche aux bons endroits dans le diagramme.

2 - 3 - 4 - 5 - 6 - 7 -
8 - 9 - 10 - 11 - 12 -
13 - 14 - 15 - 17 -
18 - 19 - 21



C'est super le progrès que tu fais.

