








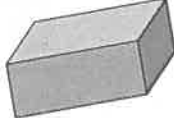



## Les solides

Quel  
enthousiasme! Tu  
m'impressionnes.



Aujourd'hui, Isis veut se rappeler le nom des solides et comment ils sont formés.

Remplis le tableau suivant:

Solide	Nom	Nombre de □	Nombre de △	Nombre de □	Nombre de ○
	<i>Cylindre</i>	0	0	1	2
	<i>Cube</i>	6	0	0	0
	<i>Pyramide à base carrée</i>	1	4	0	0
	<i>Prisme à base carrée</i>	2	0	4	0
	<i>Pyramide à base triangulaire</i>	0	4	0	0
	<i>Prisme à base rectangulaire</i>	0	0	6	0
	<i>Cône</i>	0	0	0	1
	<i>Prisme à base triangulaire</i>	0	2	3	0
	<i>Boule (sphère)</i>	0	0	0	0

① point par bonne  
réponse.

