



Concepts



Sur quel territoire habitent les Iroquoiens et les Algonquiens ?

1 - Préparation

S'adapter à son territoire, l'exemple des Inuits

1.1 Regarde ces photos concernant **la société inuite d'aujourd'hui**. Réponds aux questions suivantes :

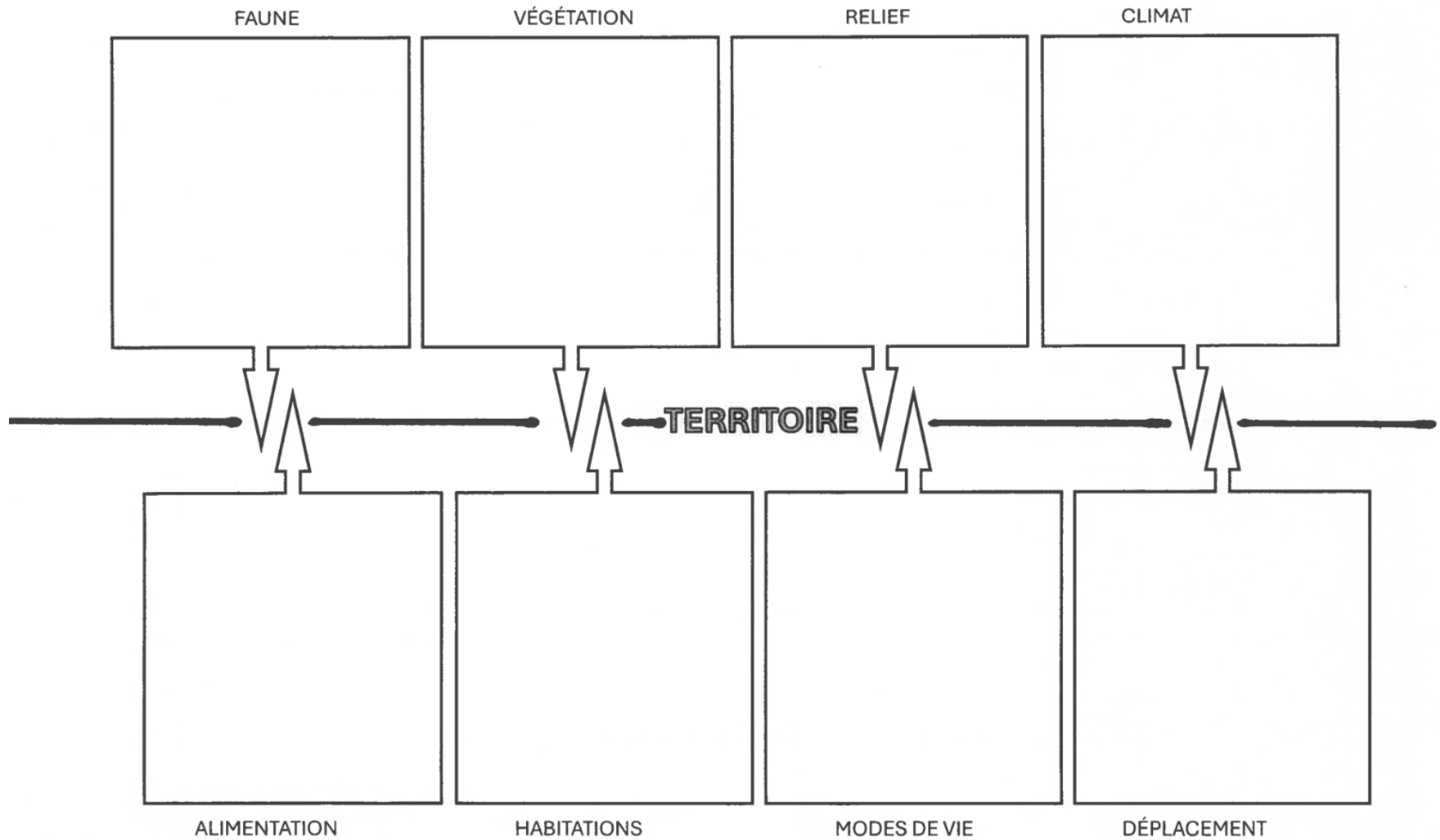
- Comment les personnes se déplacent ?

- Quel est le type d'habitation ?

- Peux-tu nommer des caractéristiques (composantes) du territoire ? (climat, relief, faune, végétation)

- Quel est leur mode de vie? Selon toi, le quotidien des Inuits est-il différent du nôtre?

Composantes (caractéristique)



Occupation du territoire

2.1 Deux sociétés autochtones / Deux territoires / Deux modes de vie différents

Complète ce tableau pour découvrir comment les **composantes du territoire** (faune, végétation, relief, climat) ont un impact sur la manière dont les sociétés autochtones **occupent** le territoire (alimentation, habitation, déplacement, mode de vie).

Société	Iroquoiens	Algonquiens
	La bouillie de maïs au menu <hr/> <hr/> <hr/> <div>TERRITOIRE</div> <hr/> <hr/> <hr/>	Chasser, pêcher, cueillir (Des nomades) <hr/> <hr/> <hr/> <hr/> <hr/> <hr/>
	La vie dans une maison longue <hr/> <hr/> <hr/> <hr/> <hr/> <hr/>	Vivre dans un wigwam <hr/> <hr/> <hr/> <hr/> <hr/> <hr/>







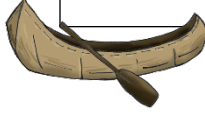

	Se déplacer en Iroquoisie : cours d'eau et sentier forestier <hr/> <hr/> <hr/> <hr/> <hr/> <hr/> <hr/>	Du canot au toboggan <hr/> <hr/> <hr/> <hr/> <hr/> <hr/> <hr/>
	<div style="border: 1px solid black; padding: 2px; display: inline-block;">TERRITOIRE</div>	
Mode de vie	Un mode de vie sédentaire <hr/> <hr/> <hr/> <hr/> <hr/> <hr/> <hr/>	Des nomades <hr/> <hr/> <hr/> <hr/> <hr/> <hr/> <hr/>

TERRITOIRE

2.2 Différences et similitudes entre les nations des Algonquiens et des Iroquoiens

- A. Sous chaque image, inscris le mot-clé correspondant.
 B. Fais un crochet devant le nom de la nation concernée (les deux nations peuvent être cochées).

Mots-clés : maison longue, chasse, raquette, agriculture, cueillette, pêche, wigwam, canot



 <input type="checkbox"/> Algonquiens <input type="checkbox"/> Iroquoiens	 <input type="checkbox"/> Algonquiens <input type="checkbox"/> Iroquoiens	 <input type="checkbox"/> Algonquiens <input type="checkbox"/> Iroquoiens	 <input type="checkbox"/> Algonquiens <input type="checkbox"/> Iroquoiens
 <input type="checkbox"/> Algonquiens <input type="checkbox"/> Iroquoiens	 <input type="checkbox"/> Algonquiens <input type="checkbox"/> Iroquoiens	<div style="border: 1px solid black; padding: 2px; display: inline-block;">TERRITOIRE</div>  <input type="checkbox"/> Algonquiens <input type="checkbox"/> Iroquoiens	 <input type="checkbox"/> Algonquiens <input type="checkbox"/> Iroquoiens

Pour chacun des aspects, nomme une différence ou une similitude entre les sociétés algonquienne et iroquoise.

Alimentation	<input type="checkbox"/> Différence <input type="checkbox"/> Similitude	Exemple :
Habitation	<input type="checkbox"/> Différence <input type="checkbox"/> Similitude	Exemple :
Déplacement	<input type="checkbox"/> Différence <input type="checkbox"/> Similitude	Exemple :

3 - Intégration


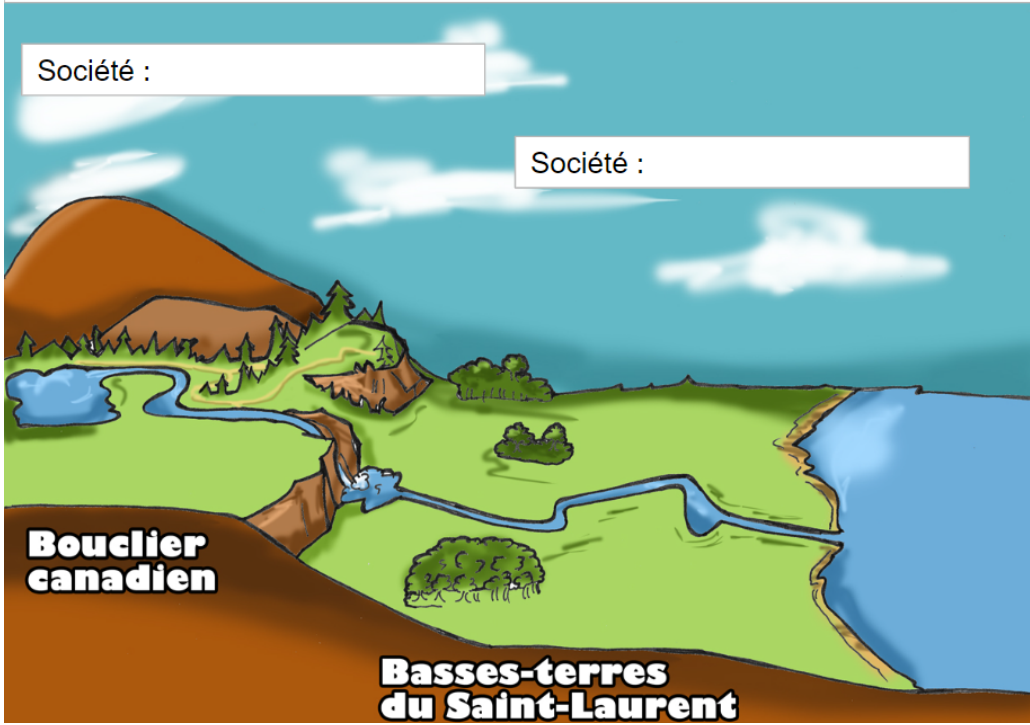

3.1 Nomade ou sédentaire ?

Basses-terres du Saint-Laurent	Bouclier canadien
 <p>Fralambert, <i>Chenal La Passe dans le parc national des îles-de-Boucherville</i> (2009), Wikimedia Commons. Licence : Creative Commons (BY-NC-SA) [Modification mineure par le Récit national de l'univers social] .</p> <ul style="list-style-type: none"> • Plaines fertiles • Situées le long des Grands lacs et du fleuve Saint-Laurent 	 <p>Denis Bruneau, <i>Perspective sur le Lac Monroe</i> (2008), Le monde en images, 48358. Licence : Creative Commons (BY-NC-SA).</p> <ul style="list-style-type: none"> • Région montagneuse • Forêt dense • Plusieurs lacs et rivières
Nation :	Nation :
Mode de vie <input type="checkbox"/> Nomade <input type="checkbox"/> Sédentaire	Mode de vie <input type="checkbox"/> Nomade <input type="checkbox"/> Sédentaire
Explique ta réponse. <hr/> <hr/> <hr/> <hr/>	Explique ta réponse. <hr/> <hr/> <hr/> <hr/>

B) Croquis du territoire

À l'aide de l'image et des pictogrammes, **réalise un croquis** des territoires des Iroquoiens et des Algonquiens. Voici les étapes à suivre :

- Donne un **titre** à ton croquis.
- Identifie la **société** correspondant à chaque territoire.
- Place les **pictogrammes** aux endroits appropriés sur le territoire.

Titre du croquis :								 Nomade
<div style="display: flex; justify-content: space-between;"> <div> Société : </div> <div> Société : </div> </div>  <p>Bouclier canadien</p> <p>Basses-terres du Saint-Laurent</p>								 Sédentaire
								