



Le volume

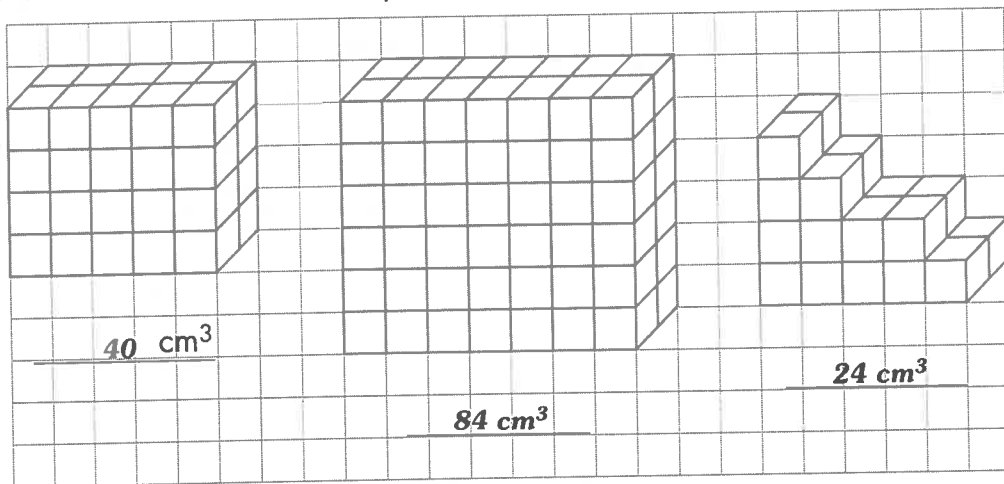
Pour trouver le volume, on doit compter le nombre de cubes-unités utilisés pour remplir un solide.

Ex.:  = 8 cubes-unités

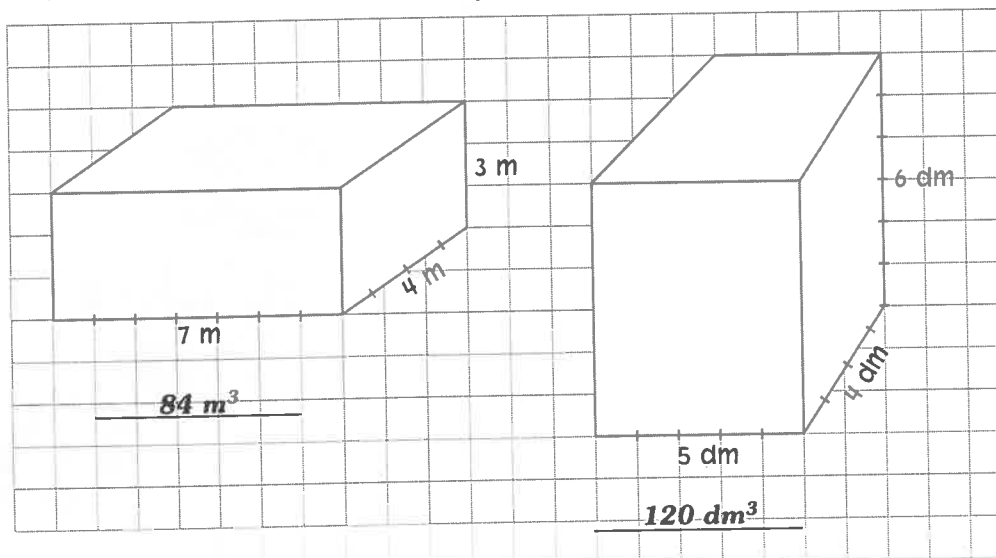
Quand on mesure en cm, on obtient **8 cm cubes** ou **8 cm³**.
Le « cube », s'exprime avec l'exposant 3 (On a mesuré 3 dimensions : longueur × largeur × hauteur).




1 Trouve le volume de chaque solide. (—•— = 1 cm)



2 Trouve le volume de chaque solide. Écris l'unité dans ta réponse.



Comme tu
t'appliques bien!



5

4

3

0 à 2

1 point par bonne réponse