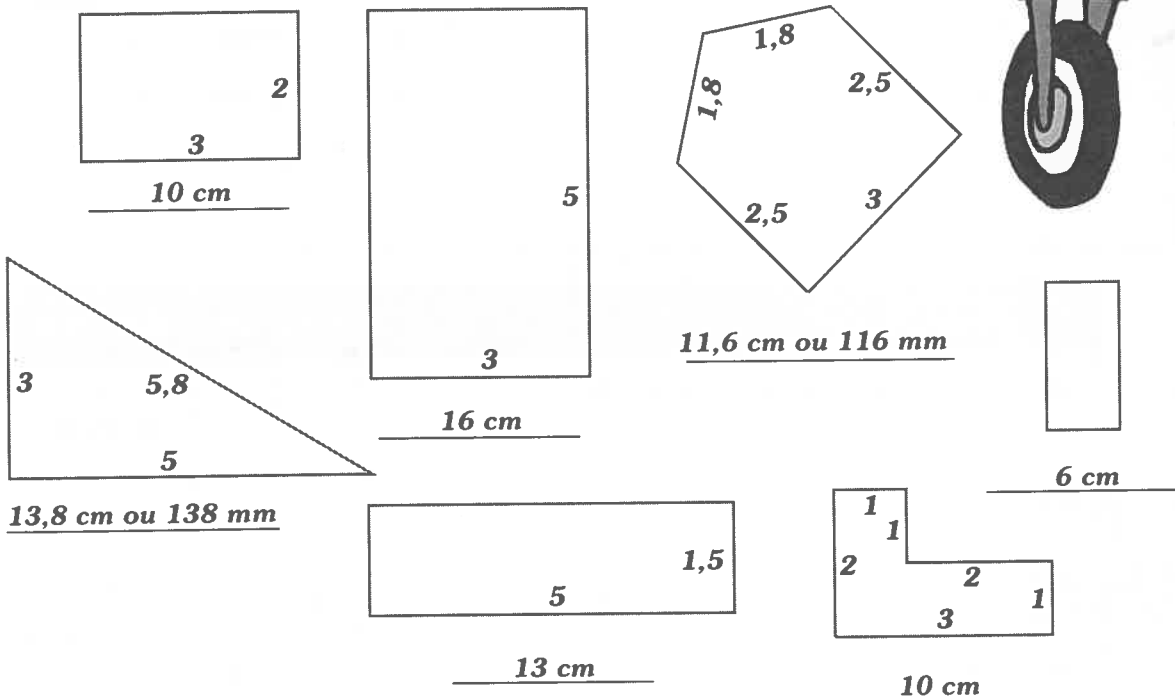



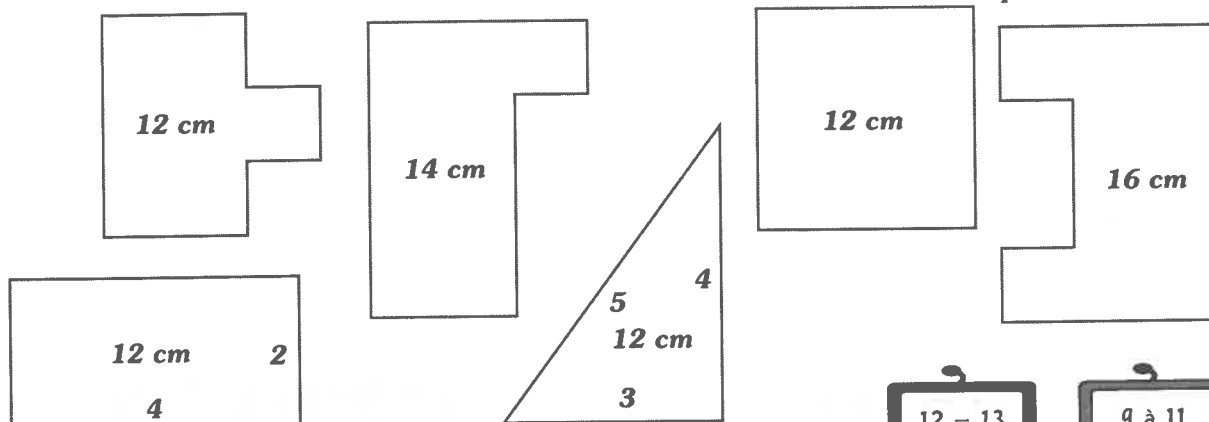
Le périmètre

- 1 AB-5 aime rouler et en roulant il laisse des traces. En voyant ces formes, il se demande quel est le périmètre de chacune d'elles. Mesure en cm et calcule le périmètre pour lui. Pense à mettre l'unité utilisée dans ta réponse.



- 2 AB-5 a la mesure dans l'oeil! Sans mesurer, estime les formes qui ont un périmètre de 12 cm. Entoure-les.

*réponses variées
pour estimation*



Mesure chaque forme pour vérifier tes estimations.
Écris tes réponses et l'unité dans les formes.

12 - 13	9 à 11
7 - 8	0 à 6

1 point par bonne réponse

