

Les lignes parallèles et perpendiculaires



Les lignes parallèles sont des lignes qui ne se rencontrent jamais. On les écrit ainsi : //

Les lignes perpendiculaires se rencontrent à angles droits ou 90° . On les écrit ainsi : \perp

Ex. :

A _____ B
C _____ D


$AB \parallel CD$

G
|
E _____ F
H

$EF \perp GH$

- 1 Trace en bleu les lignes parallèles. 4
Trace en vert les lignes perpendiculaires. 5

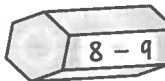
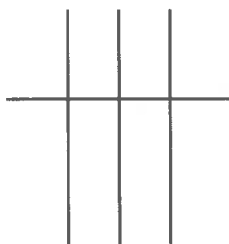
Utilise une règle pour plus de précision.



- 2 Trace 3 droites :
parallèles 3



- perpendiculaires 3



1 point par bonne réponse