

Dénombrement des résultats possibles


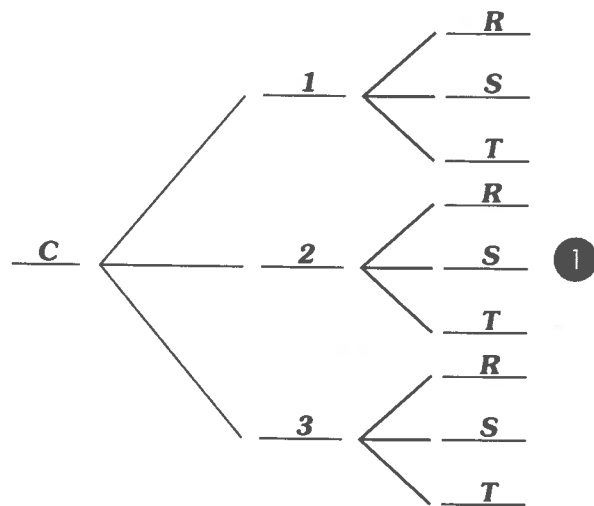
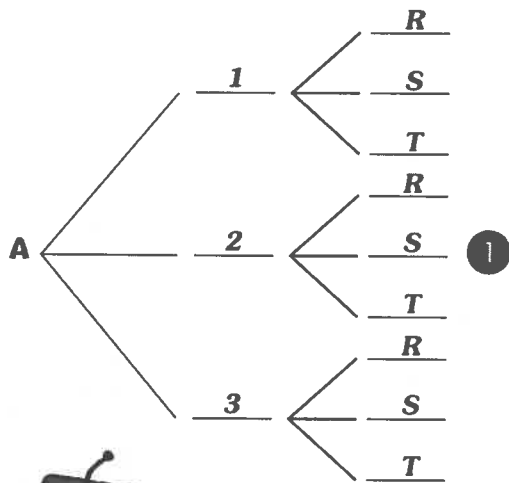
AB-5 veut donner des noms aux nurlongs. Pour se faire il veut utiliser des lettres et des chiffres. Avant de le faire à grande échelle, il veut faire un essai. Chaque nom devra commencer par une lettre de A à C, suivi d'un chiffre de 1 à 3 et suivi d'une autre lettre de R à T.

A - B - C

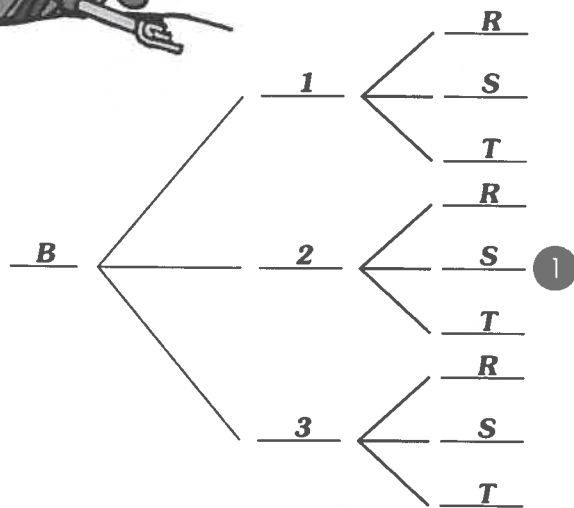
1 - 2 - 3

R - S - T

Trouve tous les noms que AB-5 peut former à partir de cet arrangement.



De la méthode...
De la persévérance...
Et le succès sera là...



Combien as-tu trouvé de possibilités? 27 ①

Écris les noms des nurlongs.

A1R - A1S - A1T

A2R - A2S - A2T - A3R - A3S - A3T

B1R - B1S - B1T - B2R - B2S - B2T

B3R - B3S - B3T - C1R - C1S - C1T ②④

C2R - C2S - C2T - C3R - C3S - C3T

25 à 28

19 à 24

14 à 18

0 à 13

