

Nom : _____ Date : _____

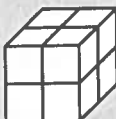
Le volume

Tu m'épates quand je vois
le sérieux et l'application
que tu mets dans ton
travail.

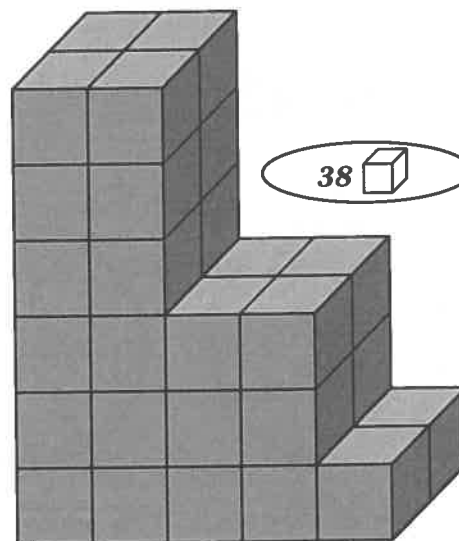
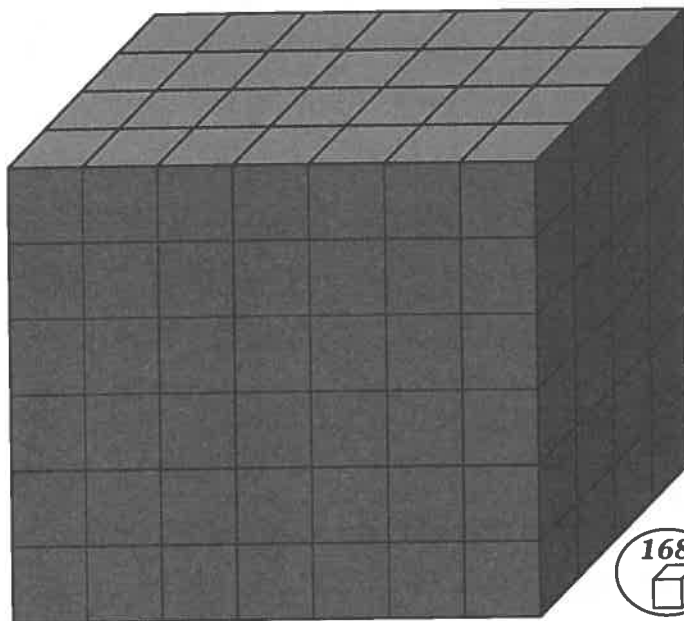
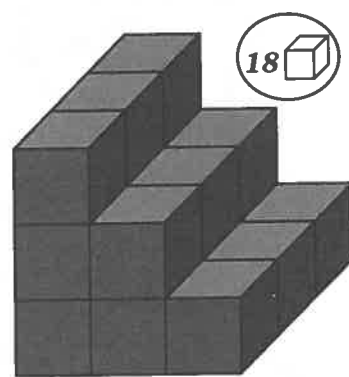
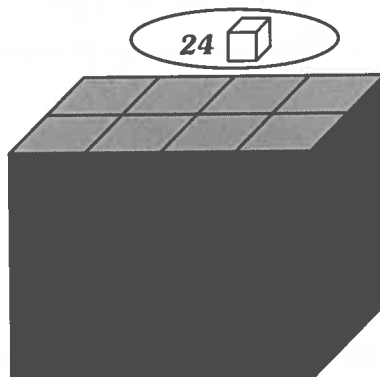
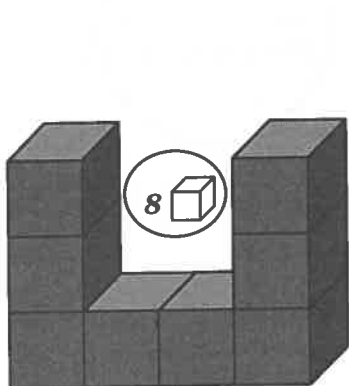


À retenir

Pour mesurer le **volume** d'un objet, on doit compter combien de cubes il faut utiliser pour remplir complètement le solide.

Ex. :  = 8 cubes-unités

1. Combien comptes-tu de cubes-unités dans les constructions suivantes?
Si tu doutes, utilise des cubes et bâtis ces constructions pour mieux trouver le nombre de cubes-unités.



① point par bonne
réponse.

