

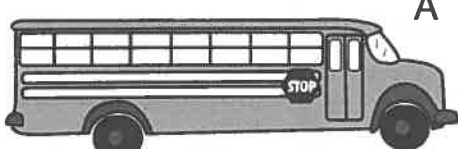









Nom : _____ Date : _____

Sais-tu que :

Au printemps, la plupart des grenouilles et moi, nous nous rassemblons dans les étangs, les mares et les marais pour se retrouver, s'accoupler et pondre.



3. Fais un X dans la case vis-à-vis de l'unité la plus appropriée pour mesurer les objets suivants (grandeur réelle).

	m	dm	cm	mm
A.  A	x			
B.  B			X ou X	
C.  C		X ou X		
D.  D		X ou X		
E.  E	x			
F.  F	x			
G.  G		x		
H.  H				x
I.  I		X ou X		
J.  J		X ou X		

① point par bonne réponse.

