

0 20 66  
54 48 qq

Sais-tu que:

Je peux manger tout ce qui bouge  
pourvu que ma bouche soit assez  
grande pour l'avaler.



4. Complète les ensembles avec les nombres suivants.

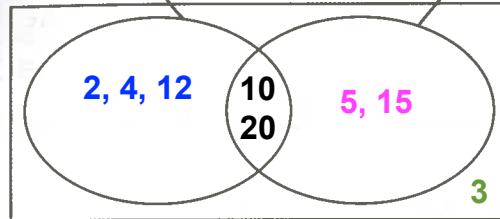
2 - 3 - 4 - 5 - 10 - 12 - 15 - 20

2 - 3 - 4 - 6 - 8 - 9 -

10 - 12 - 14

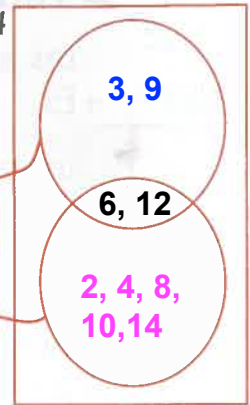
ont 2 comme  
facteur

ont 5  
comme  
facteur



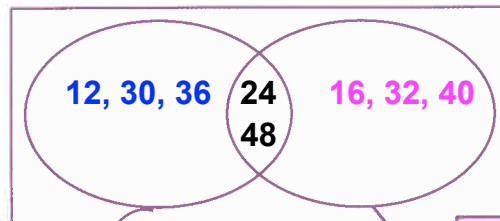
ont 3  
comme  
facteur

ont 2  
comme  
facteur



12 - 16 - 24 - 30 - 32 - 36 - 40 - 48

20 - 22 - 24 - 30 - 36 - 40 -  
42 - 44 - 48

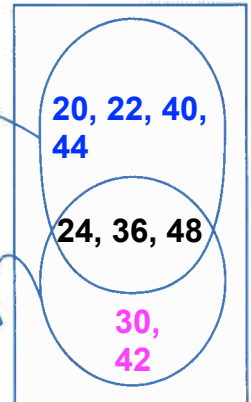


ont 6 comme  
facteur

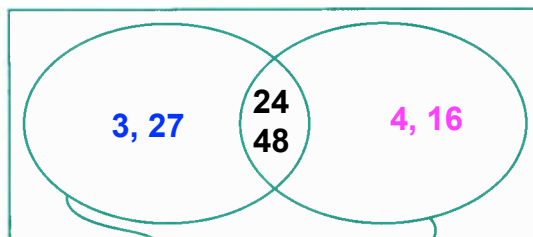
ont 8  
comme  
facteur

ont 4  
comme  
facteur

ont 6  
comme  
facteur

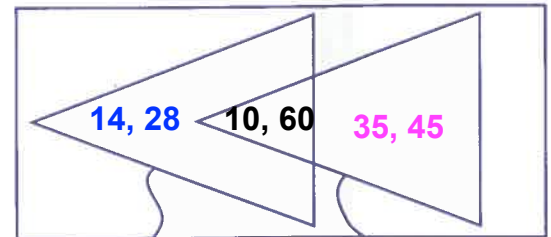


5. Complète les diagrammes suivants en ajoutant 2 nombres de ton choix dans chaque région tout en suivant la consigne.



ont 3 comme  
facteur

ont 4 comme  
facteur



ont 2 comme  
facteur

ont 5 comme  
facteur

45 à 50

33 à 44

25 à 32

0 à 24