

Nom : \_\_\_\_\_ Date : \_\_\_\_\_

## L'aire

Que j'aime venir  
travailler avec toi!





### À retenir


Pour mesurer **l'aire d'une surface**, il faut recouvrir cette surface avec des unités d'aire. Le plus souvent, on utilise le carré-unité.


Ex. : =  18 carrés-unités

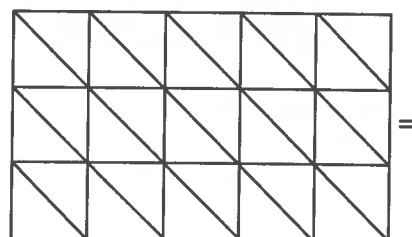
1. Trouve l'aire de chaque figure.




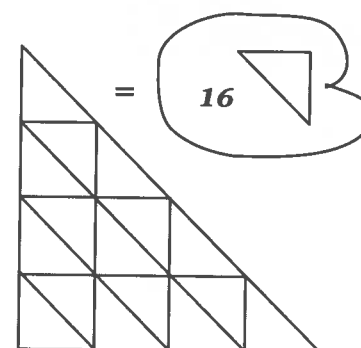
= 10 





= 12 




= 30 




= 16 



= 28 



= 12 

① point par bonne  
réponse.

