

Nom : _____ Date : _____

Le périmètre


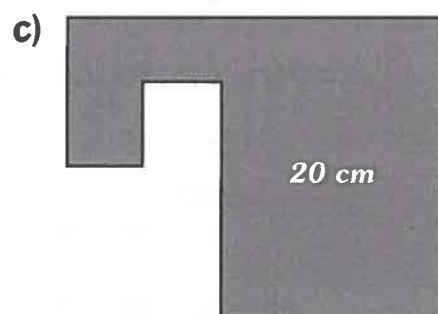
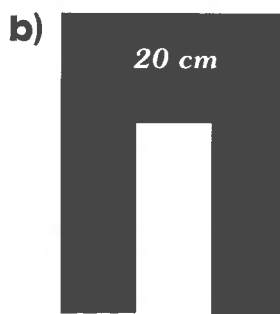
À retenir

Pour trouver le **périmètre** d'une figure plane, tu additionnes la longueur de tous les côtés, en utilisant l'unité choisie.

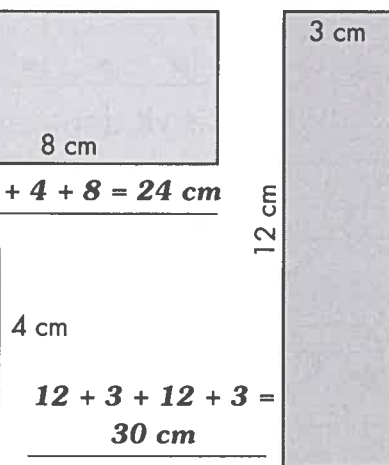
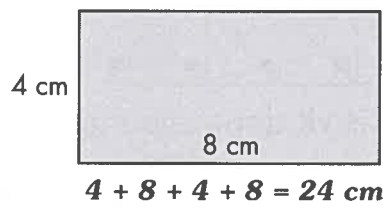
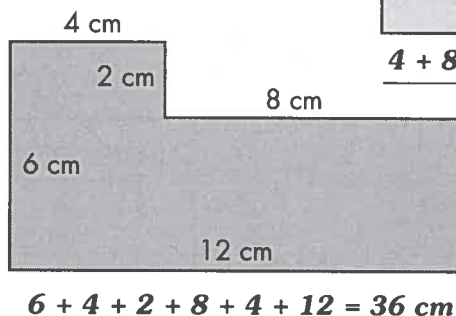
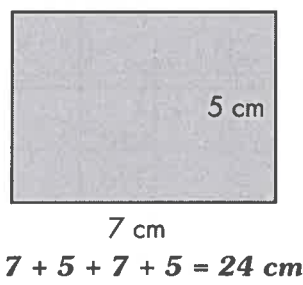

$$1 \quad \boxed{\quad} \quad 1 \quad 1 + 4 + 1 + 4 = 10 \text{ unités}$$

Tu mesures le contour d'un objet ou d'une figure.

1. Mesure le périmètre de chaque figure en utilisant le centimètre comme unité. Inscris ta réponse dans la forme avec l'unité.



2. Calcule le périmètre de chaque figure en utilisant le centimètre comme unité.



① point par réponse complète.

