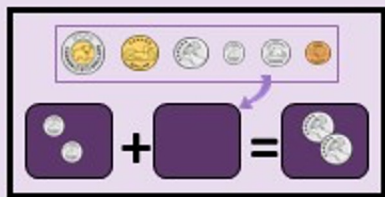



Que manque-t-il?

1. Regarde les montants d'argent.
2. Dessine les pièces manquantes dans ton cahier de math.



**ES-TU PRÊT
À RELEVER
LE DÉFI?**

Essaie d'utiliser le moins de pièces possible.



1. Que manque-t-il?

Dessine les pièces manquantes.



2. Que manque-t-il?

Dessine les pièces manquantes.



3. Que manque-t-il?

Dessine les pièces manquantes.



4. Que manque-t-il?

Dessine les pièces manquantes.



5. Que manque-t-il?

Dessine les pièces manquantes.



6. Que manque-t-il?

Dessine les pièces manquantes.



7. Que manque-t-il?

Dessine les pièces manquantes.



8. Que manque-t-il?

Dessine les pièces manquantes.



9. Que manque-t-il?

Dessine les pièces manquantes.



10. Que manque-t-il?

Dessine les pièces manquantes.



11. Que manque-t-il?

Dessine les pièces manquantes.



12. Que manque-t-il?

Dessine les pièces manquantes.



13. Que manque-t-il?

Dessine les pièces manquantes.



14. Que manque-t-il?

Dessine les pièces manquantes.



15. Que manque-t-il?

Dessine les pièces manquantes.



16. Que manque-t-il?

Dessine les pièces manquantes.



+



=



17. Que manque-t-il?

Dessine les pièces manquantes.



18. Que manque-t-il?

Dessine les pièces manquantes.



19. Que manque-t-il?

Dessine les pièces manquantes.



20. Que manque-t-il?


Dessine les pièces manquantes.



21. Que manque-t-il?

Dessine les pièces manquantes.





Bravo!
Tu as fini!