

Combien d'argent y a-t-il?

1. Compte la monnaie.



2. Choisis le bon symbole.




3. Écris la réponse dans ton cahier de math.

1,40 \$

1. Combien d'argent y a-t-il?



Il y a



2. Combien d'argent y a-t-il?



Il y a



3. Combien d'argent y a-t-il?



Il y a




.

4. Combien d'argent y a-t-il?



Il y a




.

5. Combien d'argent y a-t-il?



Il y a



.

6. Combien d'argent y a-t-il?



Il y a



.

7. Combien d'argent y a-t-il?




Il y a



8. Combien d'argent y a-t-il?



Il y a

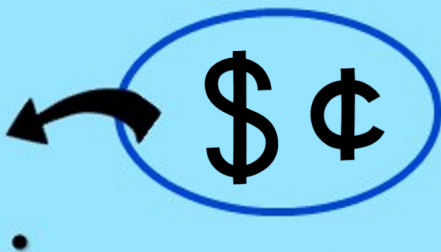


.

9. Combien d'argent y a-t-il?




Il y a



10. Combien d'argent y a-t-il?




Il y a



11. Combien d'argent y a-t-il?



Il y a



12. Combien d'argent y a-t-il?



Il y a



.

13. Combien d'argent y a-t-il?



Il y a



14. Combien d'argent y a-t-il?



Il y a



15. Combien d'argent y a-t-il?



Il y a



16. Combien d'argent y a-t-il?



Il y a



.

17. Combien d'argent y a-t-il?



Il y a



.

18. Combien d'argent y a-t-il?



Il y a




.

19. Combien d'argent y a-t-il?



Il y a



20. Combien d'argent y a-t-il?




Il y a



21. Combien d'argent y a-t-il?



Il y a



.

22. Combien d'argent y a-t-il?



Il y a




23. Combien d'argent y a-t-il?



Il y a



.



BRAVO!
Tu as fini!